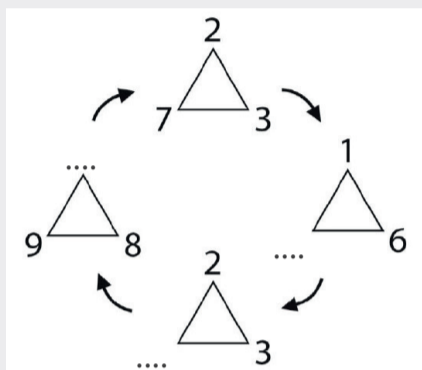


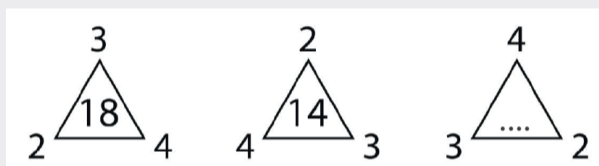
# JEUX N°9

## JEU DE LOGIQUE

Jeu n°11



Jeu n°12



Jeu n°13




Jeu n°14



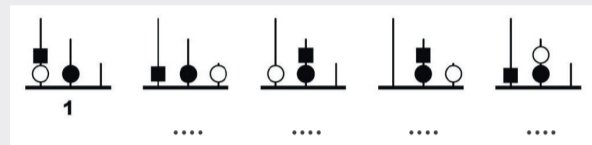
Jeu n°15



Jeu n°16



Jeu n°17



Jeu n°18

Le joueur doit numéroter chaque case de 1 à 25 sans en laisser une de vide. Pour retrouver les numéros, il doit respecter la consigne suivante : les déplacements à l'intérieur du carré sont de 3 cases à l'horizontale et à la verticale, 2 cases en diagonale.

		6		
	1			
				17
13				
			25	